

10º ROTEIRO DE ATIVIDADES COMPLEMENTARES DE ESTUDO – COVID 19

ESCOLA MUNICIPAL GERALDA CHAVES TIRADENTES

PROFESSOR: ADRIANA REGINA

**COMPONENTES CURRICULARES: LÍNGUA PORTUGUESA, MATEMÁTICA E
PSICOMOTRICIDADE**

TURMA: SALA DE RECURSOS – 5º ANO

PERÍODO DE REALIZAÇÃO: 03/05 A 07/05

ALUNO (A): _____

Senhores pais e responsáveis

No roteiro a seguir estão as atividades e todas as orientações para sua execução. Tudo está descrito de forma simples. Mas se houver alguma dúvida podem entrar em contato comigo pelo *Whatsapp*, estarei à disposição para ajudar.

Seu filho deverá realizar todas as atividades **nas folhas impressas**. Cuidem-se e cuidem de sua família. Em breve tudo estará bem.

Um abraço,

Professora Adriana Regina

APRESENTAÇÃO DO PROFESSOR	OLÁ QUERIDO (A) ALUNO (A)! VOCÊ DEVERÁ OUVIR O ÁUDIO EXPLICATIVO QUE ESTÁ DISPONÍVEL EM NOSSO GRUPO PARA REALIZAR AS ATIVIDADES.
O QUE VOCÊ VAI ESTUDAR:	- LETRA MAIÚSCULA E MINÚSCULA - POLÍGONOS - JOGO DOS SETE ERROS - EXERCÍCIO DE ATENÇÃO
PARA QUE VAMOS ESTUDAR ESSES CONTEÚDOS?	- TRABALHAR O USO CORRETO DA LETRA MAIÚSCULA E MINÚSCULA - IDENTIFICAR PROPRIEDADES DE POLÍGONOS - DESENVOLVER A CAPACIDADE DE RACIOCÍNIO - DESENVOLVER E ESTIMULAR AS FUNÇÕES CEREBRAIS
ATIVIDADE PARA REALIZAR ESSA ATIVIDADE VOCÊ PRECISARÁ DE ALGUNS MATERIAIS:	AS ATIVIDADES SERÃO REALIZADAS COM MATERIAL IMPRESSO, PROPOSTOS NOS ROTEIROS ENVIADOS PARA OS ALUNOS.

Letra maiúscula e minúscula:

ATIVIDADES

1. Leia o bilhete que o irmão de Amanda fez para o pai e circule as letras que deveriam estar maiúsculas.

**Papai,
gostaria de ir à casa do marcos
que fica em olinda. eu posso?
um abraço,
aldo.**


Agora, retire do bilhete as palavras que deveriam ter sido escritas com as letras maiúsculas e escreva-as corretamente.

- a) Nome da pessoa

- b) Começo de frase

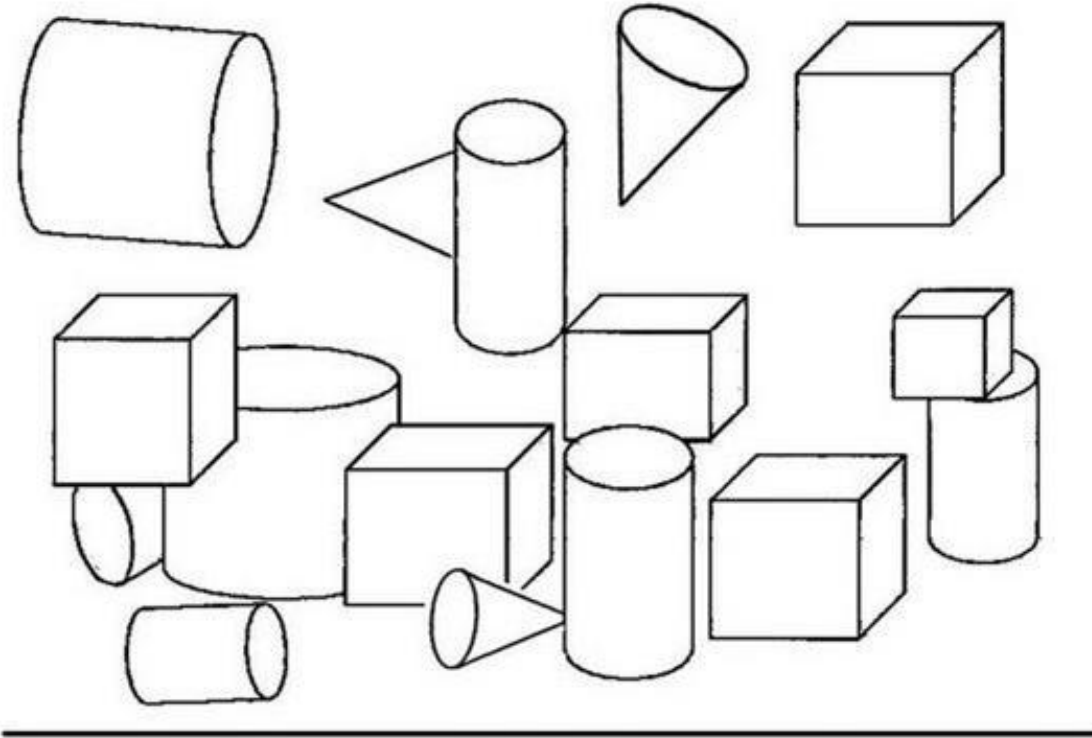
- c) Nome de lugar

- d) Agora você será o pai de Amanda e Aldo. Escreva um bilhete respondendo ao filho. Atenção! Faça uso correto das letras maiúsculas e minúsculas.



Polígonos:

1- Pinte os cones de azul, os cubos de vermelho e os cilindros de verde:



2 – Escreva o nome do sólido geométrico que cada figura lembra:



A bola lembra uma _____.



Um lápis lembra um _____.





Um funil lembra um _____.



Um dado lembra um _____.

JOGO DOS 10 ERROS:

Ache os 10 erros da imagem fazendo um x neles:





Exercício de atenção:

Encontre a tromba certa para que um dos elefantes possa comer uma maçã:

